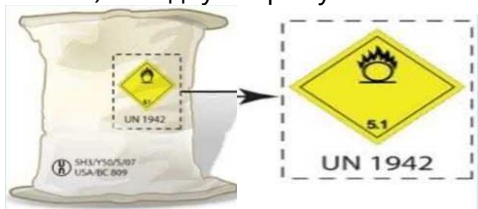
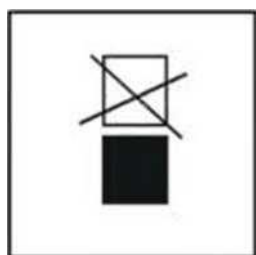



1. Нарушены ли требования ДОПОГ, если на мешок с аммиачной селитрой (№ ООН 1942, знак опасности № 5.1) на одну сторону нанесена маркировка, показанная на рисунке?



2. Назовите минимальную совокупную массу заряда дополнительных огнетушителей на транспортных единицах технически допустимой максимальной массой более 7,5 т.
3. Как правильно должны устанавливаться огнетушители на транспортных единицах?
4. Каким веществам соответствует знак опасности:
5. Код ограничения проезда через туннели C/D:
6. Что означает этот символ, нанесенный на контейнер средней грузоподъемности для массовых грузов (КСМ)?



7. В какой последовательности должна указываться в транспортном документе информация об опасном грузе ?
8. Составная тара обозначена кодом 6HG1, из какого материала изготовлена наружная тара?
9. В соответствии с ДОПОГ к классу 8 относятся:
10. Перевозка баллонов со сжатыми и сжиженными газами должна производиться только при наличии на баллонах четких надписей определенной окраски. Назовите окраску и текст надписи на баллоне с углекислотой?
11. Каким веществам соответствует знак опасности:



12. В соответствии с ДОПОГ общая вместимость баков для жидкого топлива, установленного на прицепе, не должна превышать:
13. Опасный груз класса 8 находится в 10-литровых пластмассовых канистрах. Какие из указанных элементов маркировки должны наноситься на тару (помимо маркировочных знаков, касающихся изготовления, испытаний и утверждения тары) в соответствии с требованиями ДОПОГ?
14. Нарушены ли требования ДОПОГ к маркировке баллонов с газами, если знаки опасности размещены

только на их нецилиндрической (сужающейся) части?

15. Каким из показанных на рисунке знаков обозначаются опасные грузы класса 3, упакованные в ограниченных количествах?



16. Упаковки с опасным грузом № ООН 1268 НЕФТЕПРОДУКТЫ Н.У.К. сформированы в пакет. Обязательно ли пакет должен иметь отдельную маркировку, если знаки опасности и маркировочные знаки, нанесенные на упаковки, видны снаружи транспортного пакета?



17. Каким веществам соответствует знак опасности:



18. Какая запись, в соответствии с ДОПОГ, должна быть сделана в транспортном документе при перевозке отходов, которые содержат МЕТАНОЛ (№ ООН 1230, знаки опасности № 3 и № 6.1, группа упаковки II, код ограничения проезда через тоннели (D/E))?

19. В соответствии с ДОПОГ к классу 4.1 относятся:

20. Грузоотправитель передает к перевозке десять 50-килограммовых мешков с НИТРАТОМ АММОНИЯ (№ ООН 1942, знак опасности № 5.1, группа упаковки III). Какую запись об опасном грузе должен сделать в транспортном документе грузоотправитель?

21. Если в ДОПОГ не предусмотрено иное, на каждую упаковку должен быть нанесен разборчивый и долговечный маркировочный знак. В случае неупакованных изделий, содержащих опасные грузы, маркировочный знак наносится:

22. Какие элементы относятся к Системе информации об опасности?

- а) Маркировка, характеризующая транспортную опасность на упаковках.
- б) Включение ближнего света фар.
- в) Знаки «Опасность» с собственными опорами.
- г) Специальная окраска и надписи на транспортных средствах (цистернах).

д) Два знака аварийной остановки, два фонаря автономного питания с мигающими или постоянными огнями оранжевого цвета.

23. В соответствии с контрактом водитель частного предприятия зарегистрированного в Республике Беларусь, перевозит опасный груз из Республики Польша в Российскую Федерацию через территорию Республики Беларусь. Распространяется ли действие Правил по обеспечению безопасности перевозки опасных грузов на эту перевозку?

24. В соответствии с ДОПОГ класс 3 - это:

25. Может ли быть просрочена дата проверки огнетушителей установленных на транспортном средстве, перевозящим опасные грузы?

26. В каком случае транспортный пакет, содержащий упаковки с опасным грузом, должен иметь отдельные маркировочные знаки с номерами ООН, перед которыми проставлены буквы «UN», знаки опасности и маркировочные знаки вещества, опасного для окружающей среды?



27. Что в ДОПОГ понимается под определением «Жидкость»?

28. До каких минимальных размеров допускается уменьшать размеры таблички оранжевого цвета, если размер или конструкция транспортного средства не позволяют прикрепить табличку основных размеров?

29. Водитель принимает к перевозке баллоны с опасным грузом класса 2. Какую информацию должен содержать в обязательном порядке транспортный документ?

30. Разрешается ли на одном транспортном средстве перевозить два закрытых контейнера, один из которых маркирован большим знаком опасности № 3, а второй - большим знаком опасности № 5.1?



31. Какая запись должна быть сделана в транспортном документе при перевозке порожних неочищенных барабанов из-под МЕТАНОЛА (знаки опасности № 3 и № 6.1)?

32. Водитель осуществляет перевозку опасного груза ООН 1427 (ГИДРИТ НАТРИЯ, знак опасности № 4.3). Требуется ли иметь на транспортном средстве дренажную ловушку?

33. Какая запись должна быть сделана в транспортном документе при перевозке порожних неочищенных контейнеров средней грузоподъемности для массовых грузов, которые содержали АЦЕТОН (№ ООН 1090, знаки опасности № 3)?

34. Разрешается ли водителю принимать к перевозке опасные грузы с поврежденной упаковкой?

35. Какой риск для членов экипажа может представлять опасный груз, на упаковке которого нанесен этот знак опасности?



36. В соответствии с ДОПОГ к классу 9 относятся:

37. Разрешается ли упаковки, обозначенные такими знаками опасности, загружать совместно в одно транспортное средство?



38. В соответствии с ДОПОГ класс 8 - это:

39. Нарушены ли требования ДОПОГ к маркировке, если на барабаны с краской (№ ООН 1263) нанесены только знаки опасности?

40. В соответствии с ДОПОГ к классу 6.2 относятся:

41. Какие из сведений в соответствии с ДОПОГ должны быть указаны, наряду с прочими, в транспортном документе на опасный груз?

42. В зависимости от своих опасных свойств, вещества и изделия класса 2 относятся к группам. Какие вещества и изделия относятся к группе TF?

43. Код для обозначения тары, наряду с другими символами, состоит из:

44. Составная тара обозначена кодом 6PD1, из какого материала изготовлена внутренняя тара?

45. Какая тара обозначена в данном коде?

4G/Y136/S/01

46. Какие требования предъявляются к однополюсному переключателю для размыкания электрических цепей?


47. Составная тара обозначена кодом 6PD1, из какого материала изготовлена внутренняя тара?

48. Код ограничения проезда через туннели С:

49. Идентификационный номер опасности и № ООН на табличках оранжевого цвета должны быть:

50. Водитель перевозит упаковки с опасным грузом, обозначенные вышеуказанным маркировочным знаком на транспортной единице максимальной массой 24 т. Разрешается ли ему осуществить проезд через

туннель категории В?




51. Число упаковок с опасными грузами, упакованными в освобожденных количествах, в любом транспортном средстве или контейнере не должно превышать:

52. Водитель транспортного средства, с прикрепленными спереди и сзади табличками оранжевого цвета, принимает к перевозке контейнер, в котором загружено неупакованное твердое вещество № ООН 1363 (КОПРА), для которого в ДОПОГ указан идентификационный номер опасности - 40. Должны ли таблички оранжевого цвета иметься на контейнере?

53. Водитель осуществляет перевозку опасного груза (знак опасности № 2.1) из Республики Польша в Республику Беларусь. Требуется ли иметь на транспортном средстве жидкость для промывания глаз?

54. Маркировочный знак, изображенный на рисунке, наносится:




55. Разрешается ли перевозить совместно в одном транспортном средстве канистры, обозначенные знаком опасности № 6.1, и продукты питания, если они разделены сплошной перегородкой, высота которой равна высоте упаковок с опасным грузом?



56. Водитель осуществляет перевозку опасных грузов в закрытом транспортном средстве навалом. Перевозка осуществляется в соответствии с ДОПОГ. Какой из перечисленных перевозочных документов, наряду с другими должен быть у водителя?

57. Какой риск для членов экипажа может представлять опасный груз, на упаковке которого нанесен этот знак опасности?



58. Разрешается ли перевозить совместно в одном транспортном средстве канистры, обозначенные знаком опасности № 6.1, и корма для животных?



59. В соответствии с ДОПОГ класс 4.3 - это:

60. Что такое температура вспышки легковоспламеняющейся жидкости?

61. Каким опасным грузам не назначается группа упаковки?

62. Водитель перевозит барабаны с реактивным топливом ТС-1 (№ ООН 1863, знак опасности № 3, группа упаковки III). Перевозка осуществляется в соответствии с ДОПОГ. Какой из перечисленных перевозочных документов должен быть у водителя?

63. На перевозку порожних барабанов из-под опасного груза, имевшего знаки опасности №3 и №4.3, грузоотправитель выписал транспортный документ, в котором сделал следующую запись о грузе: «Порожняя тара 3 (4.3)». Нарушил ли он требования ДОПОГ?

64. Запрещается ли эксплуатация транспортного средства в случае внесения в конструкцию изменения, влияющего на безопасность дорожного движения, без документа, подтверждающего соответствие транспортного средства требованиям безопасности?

65. Тара изготовлена из материала, обозначенного прописной буквой А, этот материал:

66. В соответствии с ДОПОГ к классу 5.2 относятся:

67. Какая запись, в соответствии с ДОПОГ, должна быть сделана в транспортном документе при перевозке в связках баллонов МЕТАНА СЖАТОГО (№ ООН 1971, знак опасности № 2.1, код ограничения проезда через тоннели (B/D))?

68. Водитель перевозит десять 200 литровых стальных барабанов (бочек) с топливом (№ ООН 1203, знак опасности № 3, группа упаковки II). Перевозка осуществляется в соответствии с ДОПОГ. Какой из перечисленных перевозочных документов обязательно должен быть у водителя?

69. Разрешается ли перевозка опасных грузов тракторами, тракторными прицепами и полуприцепами?

70. Каким веществам соответствует знак опасности:



71. Что обязан сделать перевозчик (грузоотправитель, грузополучатель) в отношении работников, перевозящих опасные грузы?

- a. Обеспечить безопасность работников, выполняющих перевозку опасных грузов и ремонт транспортных средств, используемых при перевозке таких грузов
- b. Обеспечить средствами индивидуальной защиты. Проинструктировать работников о степени опасности выполняемых работ при перевозке таких грузов
- c. Все, что указано в остальных вариантах ответов

72. Если перед погрузкой транспортного средства результаты проверки работником грузоотправителя документов у водителя, осмотра транспортного средства и его оборудования свидетельствуют о том, что транспортное средство и (или) водитель не удовлетворяют установленным требованиям, то:

73. Транспортная единица для перевозки опасных грузов комплектуется:

74. В соответствие с ДОПОГ к классу 5.1 относятся:

75. Назовите минимальную совокупную массу заряда дополнительных огнетушителей на транспортных единицах технически допустимой максимальной массой до 3,5 т:

76. Должна ли в обязательном порядке в транспортном документе на опасные грузы класса 2 указываться группа упаковки вещества?

77. Какой риск для членов экипажа может представлять опасный груз, на упаковке которого нанесен этот знак опасности?




78. Разрешается ли перевозить совместно в одном транспортном средстве канистры, обозначенные знаком опасности № 6.1, и продукты питания?




79. К какому классу в соответствии с ДОПОГ, относятся «Химические продукты под давлением: жидкости, пасты или порошки, находящиеся под давлением газа-вытеснителя»?

80. Каким веществам соответствует знак опасности:



81. На транспортную единицу, перевозящую упаковки, содержащие опасные грузы в ограниченных

количествах, маркировочные знаки, изображенные на рисунке, могут не наноситься, если:



82. Должны ли быть включены фары ближнего света и маячок оранжевого цвета на автомобиле прикрытия и на резервном порожнем транспортном средстве, при движении в составе колонны транспортных средств, перевозящих опасные грузы?

83. Где на большом контейнере, загруженном упаковками с опасным грузом, должны размещаться большие знаки опасности?

84. Код ограничения проезда через туннели В:

85. Перевозка баллонов со сжатыми и сжиженными газами должна производиться только при наличии на баллонах четких надписей определенной окраски. Назовите окраску и текст надписи на баллоне с аммиаком?

86. Табличка оранжевого цвета не должна отделяться от ее крепления в случае пребывания в огне в течение:

87. В соответствии с ДОПОГ к классу 3 относится:

88. Маркировка, характеризующая транспортную опасность, нанесенная на тару, должна содержать:

89. Грузоотправитель передает водителю к перевозке опасный груз, упакованный в освобожденных количествах, и накладную КДПГ (CMR) на этот груз. Какая информация, в соответствии с ДОПОГ, должна быть указана грузоотправителем в накладной?

90. Какие меры должны быть приняты, если после выгрузки части груза в кузове автомобиля образовалось свободное пространство?

91. В каких случаях транспортное средство комплектуется средствами нейтрализации перевозимого опасного вещества и средствами индивидуальной защиты водителя и сопровождающего персонала?

92. Допускается ли не ставить транспортное средство с опасным грузом, находящееся на стоянке, на стояночный тормоз?

93. Идентификационный номер опасности состоит из двух или трех цифр. Какой вид опасности обозначает первая цифра 5?

94. Какой риск для членов экипажа может представлять опасный груз, на упаковке которого нанесен этот знак опасности?



95. К какому классу опасных грузов в соответствии с ДОПОГ относятся охлажденные сжиженные газы?

96. Составная тара обозначена кодом 6НВ1, из какого материала изготовлена внутренняя тара?

97. Какие ограничения, связанные с перевозкой опасных грузов, распространяются на туннели категории В?

98. Разрешается ли баллоны, маркированные такими знаками опасности, загружать совместно в одно транспортное средство?



99. Какие из перечисленных ниже веществ при перевозке представляют наибольшую опасность?

100. Что в ДОПОГ понимается под определением «Опасные грузы»?

101. Водитель осуществляет перевозку опасного груза (знак опасности № 2.3) из г. Гомель в г. Минск. Требуется ли иметь на транспортном средстве жидкость для промывания глаз?

102. Водитель принимает к перевозке КСМ вместимостью 550 л. содержащий опасные для окружающей среды вещества. Должен ли, в соответствии с ДОПОГ, маркировочный знак вещества, опасного для окружающей среды наноситься КСМ?



103. Относится ли к термину «перевозка опасных грузов» погрузка (налив) выгрузка (слив) опасных грузов?

104. Нарушены ли требования ДОПОГ к маркировке, если на знаках опасности, нанесенных на тару с ацетоном (класс 3, № ООН 1090), не указан номер класса?

105. На что указывает этот маркировочный знак?



106. Разрешается ли водителю участвовать в погрузочно-разгрузочных работах с опасными грузами при включенном двигателе автомобиля?

107. Водитель осуществляет перевозку опасного груза ООН 2021 (ХЛОРФЕНОЛЫ ЖИДКИЕ, знак опасности № 6.1). Требуется ли в соответствии с ДОПОГ иметь на транспортном средстве маску для аварийного покидания транспортного средства?

108. Распространяется ли действие Правил по обеспечению безопасности перевозки опасных грузов автомобильным транспортом на перевозки опасных грузов автомобильным транспортом осуществляемых в международном сообщении (в том числе транзитные перевозки опасных грузов по территории Республики Беларусь, экспорт опасных грузов из Республики Беларусь, импорт в Республику Беларусь)?

109. В соответствии с ДОПОГ класс 9 - это:

110. К управлению механическими транспортными средствами (за исключением тракторов), используемыми при перевозке опасных грузов, допускаются:

111. Водитель осуществляет перевозку опасного груза ООН 1363 (КОПРА, знак опасности № 4.2). Требуется ли иметь на транспортном средстве сборный контейнер?

112. Каким веществам соответствует знак опасности:



113. Какие ограничения, связанные с перевозкой опасных грузов, распространяются на туннели категории С?


114. Водитель осуществляет перевозку ООН 1360 (КАЛЬЦИЯ ФОСФИД, знак опасности №№ 4.3+6.1) в упаковках. Должна ли транспортная единица комплектоваться лопатой, дренажной ловушкой для предотвращения попадания опасных веществ в систему канализации и ящиком с сухим песком массой 25 кг?

115. В каком случае при международной перевозке опасного груза в транспортном документе может не указываться код ограничения проезда через тоннели, присвоенный опасному грузу?

116. Водитель принимает к перевозке упаковки с ООН 3221 (САМОРЕАКТИВНАЯ ЖИДКОСТЬ ТИПА В). Какие знаки опасности должны быть нанесены на каждую упаковку?



116.7 Каким знаком должны обозначаться транспортные средства, перевозящие упаковки с жидкостями при температуре не ниже 100°C и вещества в твердом состоянии при температуре не ниже 240 °C?




118. Каким веществам соответствует знак опасности:



119. Основным видом транспортной опасности карбида кальция является его способность выделять легковоспламеняющийся газ при соприкосновении с водой. К какому классу опасных грузов в соответствии с ДОПОГ относится это вещество?

120. Какая тара обозначена в данном коде?

 1A/Y1,4/150/11/BY MAZ


121. К какому классу опасных грузов в соответствии с ДОПОГ относятся твердые легковоспламеняющиеся вещества, не представляющие при перевозке дополнительной опасности (например, сера)?

122. Каким веществам соответствует знак опасности:



123. Для перевозки контейнера, в котором загружено неупакованное твердое вещество № ООН 1362 (УГОЛЬ АКТИВИРОВАННЫЙ) водитель транспортного средства на боковые поверхности контейнера наклеил самоклеящиеся этикетки с изображением табличек оранжевого цвета, на которых указан идентификационный номер опасности и № ООН перевозимого вещества. Нарушены ли водителем требования ДОПОГ?

124. Какие транспортные средства должны иметь спереди и сзади маркировочный знак, изображенный на рисунке



125. Тара изготовлена из материала, обозначенного прописной буквой С, этот материал:

126. Идентификационный номер опасности состоит из двух или трех цифр. Какой вид опасности обозначает первая цифра 4?

127. Каким веществам соответствует знак опасности:



128. Разрешается ли штабелировать в грузовом отделении транспортного средства или контейнере крупногабаритную тару, если она маркирована таким знаком?



129. Допускается ли расположение топливного бака и аккумуляторных батарей в одном отсеке?

130. Какие требования предъявляются к огнетушителям, установленным на транспортном средстве, перевозящим опасные грузы?

131. В зависимости от своих опасных свойств, вещества и изделия класса 2 относятся к группам. Какие вещества и изделия относятся к группе F?

132. Где должен быть размещен данный предупреждающий маркировочный знак?

WARNING

ПРЕДУПРЕЖДЕНИЕ



133. Для обозначения кода составной тары, используются две прописные латинские буквы, которые обозначают:

134. Какой из нижеперечисленных Законов Республики Беларусь регулирует отношения, возникающие при перевозке опасных грузов, осуществляемой на территории Республики Беларусь?

135. В соответствии с ДОПОГ к классу 4.2 относятся:

136. Должны ли быть у водителя транспортного средства, зарегистрированного в Республике Беларусь, перевозящего мешки с НИТРАТОМ АММОНИЯ (№ ООН 1942, класс 5.1) по территории Республики Беларусь письменные инструкции в соответствии с ДОПОГ?

137. Могут ли таблички оранжевого цвета заменяться самоклеящейся этикеткой, краской или любой другой равноценной маркировкой?

138. В транспортный пакет сформированы упаковки с жидким опасным грузом. Должны ли, в соответствии с ДОПОГ, на транспортный пакет наноситься манипуляционные знаки «Верх» (стрелки, указывающие положение при перевозке), если затворы тары не видны снаружи пакета?



139. Что в ДОПОГ понимается под определением «Погрузчик»?

140. В соответствии с ДОПОГ к классу 6.2 относятся:

141. Водитель принимает к перевозке опасный груз класса 3 № ООН 1203 БЕНЗИН МОТОРНЫЙ в стальных двухсотлитровых барабанах. Какую информацию должен содержать в обязательном порядке транспортный документ?

142. В соответствии с ДОПОГ класс 5.2 - это:

143. К управлению механическими транспортными средствами (за исключением тракторов), используемыми при перевозке опасных грузов допускаются:

а. Водители механических транспортных средств не моложе двадцати одного года, имеющие

стаж управления механическими транспортными средствами, прицепами или полуприцепами к ним категорий «В», «С», «В» и «С», составами транспортных средств категорий «ВЕ» и «СЕ» не менее трех лет

- b. Водители, имеющие свидетельство о подготовке водителя механического транспортного средства для выполнения перевозки опасных грузов
- c. Все, что указано в остальных вариантах ответов

144. В каком случае в составе колонны, кроме автомобиля прикрытия, требуется обязательно наличие резервного порожнего транспортного средства, приспособленного для перевозки данного вида опасного груза?

145. Какая из приведенных ниже легковоспламеняющихся жидкостей представляет наибольшую опасность при перевозке?

146. Водитель принимает к перевозке баллоны с опасным грузом № ООН 1005 АММИАК БЕЗВОДНЫЙ. Какую информацию должен содержать в обязательном порядке транспортный документ?

147. В соответствии с ДОПОГ к классу 4.2 относятся:

148. Какие из перечисленных опасных веществ при перевозке представляют наименьшую опасность?

149. В соответствии с ДОПОГ к классу 4.3 относится:

150. Что в ДОПОГ понимается под определением «Газ»?

151. Транспортные средства, перевозящие опасные грузы, должны быть оборудованы устройством или функцией ограничения скорости. Данное устройство или функция ограничения скорости должны быть отрегулированы так, чтобы скорость не могла превысить:

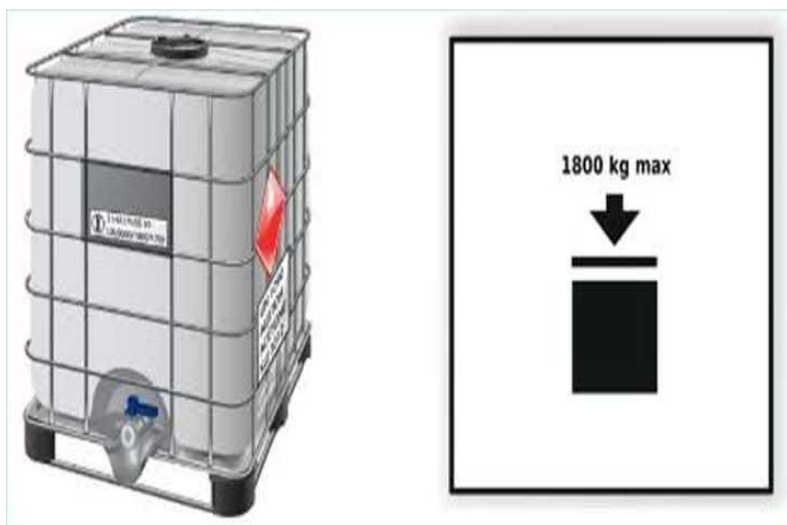
152. Транспортный пакет с упаковками, содержащими разные опасные грузы, совместная погрузка и размещение которых допускается, обернутый непрозрачной пленкой. Где должна быть нанесена маркировка?



153. По крупному населенному пункту водитель перевозит опасный груз № ООН 1587 (МЕДИ ЦИАНИД, класс 6.1) в упаковках. Нарушит ли он правила, если перевозка осуществляется в период с 16 до 19 часов?

154. В каком случае перевозка опасных грузов колонной обязательно осуществляется с автомобилем прикрытия?

155. Разрешается ли штабелировать в грузовом отделении транспортного средства контейнеры средней грузоподъемности для массовых грузов (КСМ), если они маркированы таким знаком? Значение над стрелкой «1800 kg max».



156. В соответствии с Законом Республики Беларусь от 6 июня 2001 г. № 32-З «О перевозке опасных грузов» авария - это:

157. Нарушены ли требования ДОПОГ к маркировке, если на барабаны с краской (№ ООН 1263) знак опасности и маркировочный знак номером ООН, соответствующие грузу, нанесены только на их верхние днища?

158. Относится ли к термину «перевозка опасных грузов» промежуточное временное складирование опасных грузов в целях смены вида транспорта либо транспортного средства (перегрузка, перевалка)?

159. Что из нижеперечисленного имеет отношение к элементам Системы информации об опасности (СИО)?

- Маркировку, характеризующую транспортную опасность на упаковках и информационную карточку для расшифровки идентификационного номера опасности, указанного на табличке оранжевого цвета
- Включение проблескового маячка оранжевого цвета и включение ближнего света фар
- Все, что указано в остальных вариантах ответов

160. Что в ДОПОГ понимается под определением «Баллон»?

161. Идентификационный номер опасности состоит из двух или трех цифр. Какой вид опасности обозначает первая цифра 8?

162. Минимальные размеры большого знака опасности составляют:

163. Для обозначения какого вида тары используется цифра 1?

164. На какое количество топлива перевозимого в нормальных условиях перевозки в переносных топливных емкостях (за исключением легковоспламеняющихся жидкостей, перевозимых в сосудах многоразового использования, наполненных частным лицом) положения ДОПОГ не распространяются:

165. В соответствии с ДОПОГ общая вместимость топливных баков или баллонов для транспортной единицы не должна превышать значений количества энергии (МДж) или массы (кг), соответствующих:

166. Разрешается ли применять транспортные средства с двигателем, работающим на газе, для перевозки опасных грузов классов 4.1,4.2,4.3?

167. Составная тара обозначена кодом 6НВ1, из какого материала изготовлена наружная тара?

168. Какие типы транспортных средств могут использоваться, когда для перевозки опасных грузов предписано использование транспортного средства типа FL?

169. Каким веществам соответствует знак опасности:



170. В зависимости от своих опасных свойств, вещества и изделия класса 2 относятся к группам. Какие вещества и изделия относятся к группе О?

171. Что обозначает данный предупреждающий маркировочный знак?

WARNING

ПРЕДУПРЕЖДЕНИЕ



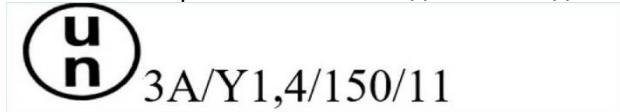
172. В соответствии с ДОПОГ к классу 8 относятся:

173. Какая тара обозначена в данном коде?



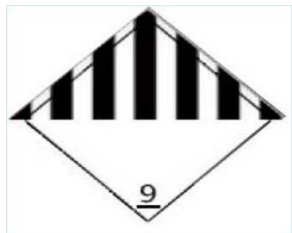
174. Запрещается ли эксплуатация транспортного средства, если водитель не имеет свидетельства ДОПОГ о подготовке водителя?

175. Какая тара обозначена в данном коде?



176. Перевозка баллонов со сжатыми и сжиженными газами должна производиться только при наличии на баллонах четких надписей определенной окраски. Назовите окраску и текст надписи на баллоне с хлором или фосгеном?

177. Какой риск для членов экипажа может представлять опасный груз, на упаковке которого нанесен этот знак опасности?



178. Какая запись должна быть сделана в транспортном документе при перевозке КИСЛОРОДА СЖАТОГО в баллонах (№ ООН 1072, знаки опасности № 2.2 и № 5.1)?

179. Разрешается ли ящики, обозначенные такими знаками, загружать совместно в одно транспортное средство?



180. В соответствии с ДОПОГ класс 6.1 - это:


181. Какой риск для членов экипажа может представлять опасный груз, на упаковке которого нанесен этот знак опасности?



182. Правильно ли поступил грузоотправитель, не допустивший на свою территорию под загрузку опасным грузом транспортное средство, у которого отсутствуют два знака аварийной остановки?

183. Кем производится погрузка опасного груза на грузовое транспортное средство, а также его закрепление, укрытие, увязка, выгрузка, снятие креплений, покрытий, закрытие и открытие бортов?

184. Какими огнетушителями комплектуется транспортное средство, перевозящее опасные грузы в упаковках с такими маркировочными знаками?



185. Укажите условия, регламентирующие перевозку опасных грузов, упакованных в ограниченном количестве:

186. В соответствии с ДОПОГ к классу 4.1 относятся:

187. Обязательное медицинское переосвидетельствование водителей механических транспортных средств, выполняющих перевозки опасных грузов, проводится:

188. Подлежит ли возмещению по договору страхования гражданской ответственности перевозчика при перевозке опасных грузов вред, причиненный окружающей среде?

189. Перевозка баллонов со сжатыми и сжиженными газами должна производиться только при наличии на баллонах четких надписей определенной окраски. Назовите окраску и текст надписи на баллоне с азотом?

190. Какие из перечисленных опасных грузов в соответствии с ДОПОГ могут при перевозке находиться под значительным избыточным давлением?

191. Должен ли в обязательном порядке в транспортном документе на опасный груз, упакованный в ограниченных количествах, указываться номер ООН груза?

192. Запрещается производство погрузочно-разгрузочных работ с использованием пластмассовых барабанов и канистр, жестких пластмассовых КСМ и составных КСМ с пластмассовой внутренней емкостью для перевозки опасных веществ, период эксплуатации которых составляет:

193. К какому классу опасных грузов в соответствии с ДОПОГ относятся способные к самовозгоранию вещества, не представляющие при перевозке дополнительной опасности (например, хлопок влажный)?

194. Маркировка в виде стрелок должна наноситься:



195. В соответствии с ДОПОГ к классу 4.2 относятся:

196. Какие требования предъявляются к переключателю для размыкания электрических цепей?

197. При перевозке десяти 50 литровых металлических канистр с опасным грузом № ООН 1263 (РАСТВОРИТЕЛЬ) в результате разгерметизации одной из них, в кузов автомобиля вылилось 25 л. растворителя. Вреда жизни или здоровью физических лиц, а также вреда имуществу или окружающей среде не нанесено. Классифицируется ли данное событие как авария с опасным грузом?

198. Что в Правилах по обеспечению безопасности перевозки опасных грузов автомобильным транспортом понимается под определением «Грузы повышенной опасности»?

199. Могут ли знаки опасности и маркировочный знак вещества, опасного для окружающей среды, нанесенные на упаковки с опасными грузами, перекрывать друг друга?

200. Каким веществам соответствует знак опасности:



201. Разрешается ли упаковки, обозначенные такими знаками, загружать совместно в одно транспортное средство?



202. Разрешается ли применять транспортные средства с двигателем, работающим на газе, для перевозки опасных грузов класса 3?

203. Тара изготовлена из материала, обозначенного прописной буквой L, этот материал:

204. Какая запись должна быть сделана в транспортном документе при перевозке пустого, не очищенного от ФЕРРОСИЛИЦИЯ (№ ООН 1408, группа упаковки III, знаки опасности № 4.3 и № 6.1, код ограничения проезда через тоннели (D/E)) контейнера для массовых грузов?

205. Составная тара обозначена кодом 6HD1, из какого материала изготовлена наружная тара?

206. Какой риск для членов экипажа может представлять опасный груз, на упаковке которого нанесен этот знак опасности?



207. Каким из показанных на рисунке знаков обозначаются опасные грузы, упакованные в ограниченных количествах?




208. Требуется обязательное заключение Договора страхования гражданской ответственности перевозчика на перевозку опасного груза с № ООН 1210 (КРАСКА ТИПОГРАФСКАЯ легковоспламеняющаяся, группа упаковки I) в упаковках?

209. Идентификационный номер опасности состоит из двух или трех цифр. Какой вид опасности обозначает первая цифра 3?

210. В зависимости от своих опасных свойств, вещества и изделия класса 2 относятся к группам. Какие вещества и изделия относятся к группе ТС?

211. В соответствии с ДОПОГ класс 5.1 - это:

212. Водитель принимает к перевозке упаковки с ООН 2814 (ИНФЕКЦИОННОЕ ВЕЩЕСТВО ОПАСНОЕ ДЛЯ ЛЮДЕЙ, в охлажденном жидком азоте). Какие знаки опасности должны быть нанесены на каждую упаковку?



213. К какому классу в соответствии с ДОПОГ, относится «горючий газ, который, будучи, загружен под давлением для перевозки, растворен в жидком растворителе»?

214. Водитель осуществляет перевозку опасного груза ООН 1350 (СЕРА, знак опасности № 4.1). Требуется ли иметь на транспортном средстве сборный контейнер?

215. В случае возникновения аварии или инцидента водитель обязан оградить зону аварии или инцидента знаком «Опасность» спереди и сзади транспортного средства на расстоянии не менее:

216. Большие знаки опасности размещаются:

- а. На наружной поверхности переносных цистерн и транспортных средств, МЕМУ
- б. На наружной поверхности контейнеров, контейнеров для массовых грузов, МЭГК, контейнеров-цистерн
- с. Все, что указано в остальных вариантах ответов

217. Идентификационный номер опасности состоит из двух или трех цифр. Какой вид опасности обозначает первая цифра 2?

218. Какая дистанция должна быть между транспортными средствами при перевозке опасных грузов колонной в условиях холмистой местности - при подъемах и спусках?

219. Какая запись, в соответствии с ДОПОГ, должна быть сделана в транспортном документе на перевозку барабанов с КЕРОСИНОМ (№ ООН 1223, знак опасности № 3, группа упаковки III, код ограничения проезда через тоннели (D/E), опасное для окружающей среды вещество)?

220. Водитель должен перевезти навалом нитрат аммония (класс 5.1). Из какого перевозочного документа он может узнать номер ООН, который должен указываться в нижней части таблички оранжевого цвета?

221. В каком документе указывается, что водителю запрещено перевозить опасные грузы в автоцистернах?

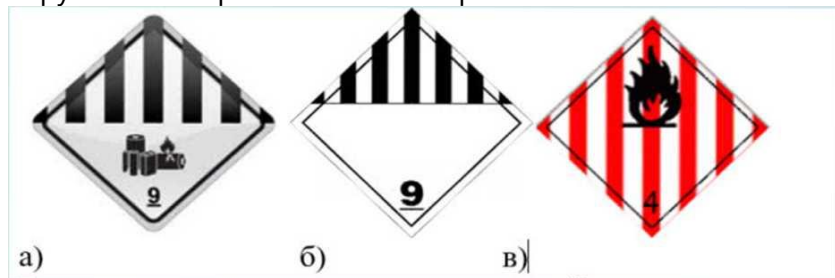
222. К какому классу опасных грузов в соответствии с ДОПОГ относятся жидкие коррозионные вещества, не представляющие при перевозке дополнительной опасности (например, серная кислота)?

223. К какому классу в соответствии с ДОПОГ, относятся «Аэрозольные распылители, содержащие газ»?

224. Для обозначения какого вида тары используется цифра 5?

225. Код для обозначения тары, наряду с другими символами, состоит из:

226. Водитель принимает к перевозке контейнер с упаковками ООН 3480 (БАТАРЕИ ЛИТИЙ-ИОННЫЕ) в количестве 1200 кг (нетто). Какие из приведенных больших знаков опасности должны размещаться на наружной поверхности контейнера?



227. Транспортная единица для перевозки опасных грузов комплектуется:

228. Тара изготовлена из материала, обозначенного прописной буквой D, этот материал:

229. В соответствии с ДОПОГ класс 6.2 - это:

230. Сопротивление заземляющего устройства вместе с контуром заземления должно быть не более:

232. Как должны размещаться большие знаки опасности на мягких контейнерах для массовых грузов?

232. Распространяется ли Обязательное страхование гражданской ответственности перевозчика на международные перевозки опасных грузов за пределами Республики Беларусь?

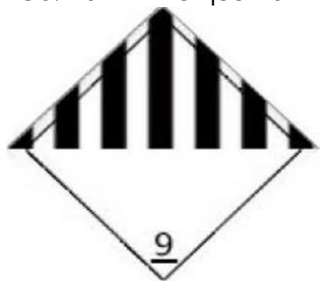
233. Разрешается ли членам экипажа транспортного средства открывать упаковки, содержащие опасные грузы?

234. Каким веществам соответствует знак опасности:



235. Должна ли табличка оранжевого цвета оставаться прикрепленной сзади прицепа, груженого опасным грузом, если во время перевозки он будет отцеплен от буксирующего его автомобиля.

236. Каким веществам соответствует знак опасности:



237. Какие из перечисленных транспортных средства должны быть оборудованы антиблокировочной тормозной системой (АБС)?

238. Большой контейнер предъявляется к перевозке только в том случае, если он является конструктивно пригодным, то есть не имеет крупных дефектов в своих конструктивных компонентах. К крупным дефектам относятся:

239. Каким веществам соответствует знак опасности:



240. К какому классу опасных грузов в соответствии с ДОПОГ относятся газы токсичные, коррозионные, окисляющие, опасные для окружающей среды (например, хлор)?

241. К какому классу опасных грузов в соответствии с ДОПОГ относятся окисляющие твердые вещества без дополнительной опасности (например, калия перманганат)?

242. Какие элементы относятся к Системе информации об опасности?

- а) Таблички оранжевого цвета для обозначения транспортных средств, перевозящих опасные грузы.
- б) Знаки «Опасность» с собственными опорами.
- в) Письменные инструкции согласно подразделу 5.4.3.4 приложения А к соглашению ДОПОГ.
- г) Информационная карточка для расшифровки идентификационного номера опасности, указанного на табличке оранжевого цвета.
- д) Два знака аварийной остановки, два фонаря автономного питания с мигающими или постоянными огнями оранжевого цвета.

243. Какие ограничения, связанные с перевозкой опасных грузов, распространяются на туннели категории А?

244. Как должен поступить водитель, если ему для перевозки передаются упаковки с опасным грузом, на которых знаки опасности перекрывают друг друга?



245. Распространяется ли действие Правил, на перевозку газов, содержащихся в мячах, предназначенных для использования в спорте?

246. Какие требования предъявляются к переносным осветительным приборам в соответствии с ДОПОГ?

247. В результате дорожно-транспортного происшествия из транспортного средства, перевозящего опасный груз № ООН 1361 (УГОЛЬ ЖИВОТНОГО ИЛИ РАСТИТЕЛЬНОГО ПРОИСХОЖДЕНИЯ) на проезжую часть выпали и просыпались пятьдесят 5-ти килограммовых бумажных мешков с древесным углем. Классифицируется ли данное событие как авария с опасным грузом?

248. Водитель принимает к перевозке упаковки с ООН 3102 (КИСЛОТЫ ЯНТАРНОЙ ПЕРОКСИД). Какие знаки опасности должны быть нанесены на каждую упаковку?



249. Грузоотправитель передает водителю транспортный документ на опасный груз, отправляемый из Республики Беларусь в Республику Польша. Будут ли нарушены требования ДОПОГ, если транспортный документ заполнен только на русском языке?

250. Разрешается ли применять транспортные средства с двигателем, работающим на газе, для перевозки опасных грузов класса 2?

251. Осуществляется международная перевозка опасного груза класса 3 в упаковках. Должно ли быть на транспортном средстве свидетельство о допуске транспортных средств к перевозке некоторых опасных грузов?

252. В соответствии с Законом Республики Беларусь от 6 июня 2001 г. № 32-3 «О перевозке опасных грузов» инцидент - это:

253. Водитель осуществляет перевозку опасного груза ООН 1077 (ПРОПИЛЕН, знак опасности № 2.1). Требуется ли в соответствии с ДОПОГ иметь на транспортном средстве маску для аварийного покидания транспортного средства?

254. В соответствии с ДОПОГ к классу 6.1 относятся:

255. Какая запись, в соответствии с ДОПОГ, должна быть сделана в транспортном документе при перевозке опасного груза АММОНИЯ НИТРАТ в мягких контейнерах для массовых грузов (№ ООН 1942, знак опасности № 5.1, группа упаковки III, код ограничения проезда через тоннели (E))?

256. Действие Правил по обеспечению безопасности перевозки опасных грузов не распространяется на

перевозки опасных грузов частными лицами, когда эти грузы упакованы для розничной продажи и предназначены для их личного потребления, при условии что приняты все меры для предотвращения любой утечки содержимого в нормальных условиях перевозки. Если такими грузами являются легковоспламеняющиеся жидкости, то:

257. К перевозке передается груз № ООН 1294 ТОЛУОЛ (знак опасности № 3), упакованный в комбинированную тару, состоящую из внутренней стеклянной тары и ящика из естественной древесины. Правильно ли маркирована упаковка, если ее масса брутто превышает 30 кг и маркировка нанесена только на одну ее сторону?

258. В соответствии с ДОПОГ класс 4.2 - это:

259. Каким веществам соответствует знак опасности:



260. Разрешается ли производить погрузочно-разгрузочные работы с опасными грузами при включенном двигателе автомобиля?

261. Обязан ли водитель предъявить товарно-транспортные документы на перевозимый опасный груз представителям органов внутренних дел, местных исполнительных и распорядительных органов, местных органов здравоохранения, прибывшим на место аварии или инцидента?

262. В соответствии с требованиями ДОПОГ на каких частях контейнера средней грузоподъемности для массовых грузов вместимостью более 450 л с опасным грузом класса 5.1, должны размещаться знаки опасности?

263. Сколько классов опасных грузов предусматривается в соответствии с ДОПОГ?

264. Какой перевозочный документ не является обязательным при международной перевозке 22-х тонн опасного груза № ООН 1942 АММОНИЯ НИТРАТ, если он перевозится в упаковках?

265. На сколько категорий подразделяются тоннели?

266. Для обозначения какого вида тары используется цифра 4?

267. Какой из нижеперечисленных нормативных правовых актов устанавливает требования по обеспечению безопасности перевозки опасных грузов автомобильным транспортом по автомобильным дорогам общего пользования на территории Республики Беларусь?

268. Тара изготовлена из материала, обозначенного прописной буквой G, этот материал:

269. Разрешается ли штабелировать мягкие контейнеры для массовых грузов?

270. Каким веществам соответствует знак опасности:



271. Должен ли водитель принимать к перевозке малый контейнер, содержащий опасные грузы в упаковках, если грузоотправитель вместо больших знаков опасности, разместил на нем знаки опасности размером 150 мм x 150 мм?

272. Какая тара обозначена в данном коде?

4H/Y136/S/01

273. Допускаются ли на территорию грузоотправителя транспортные средства, не отвечающие требованиям Правил по обеспечению безопасности перевозки опасных грузов?

274. Какой риск для членов экипажа может представлять опасный груз, на упаковке которого нанесен этот знак опасности?




275. Какой риск для членов экипажа может представлять опасный груз, на упаковке которого нанесен этот знак опасности?



276. Какие типы транспортных средств могут использоваться, когда для перевозки опасных грузов предписано использование транспортного средства типа АТ?

277. Что обозначает буква Y в маркировке тары?



278. Водитель осуществляет перевозку опасного груза ООН 1286 (МАСЛО СМОЛЯНОЕ, знак опасности № 3). Требуется ли в соответствии с ДОПОГ и иметь на транспортном средстве защитные перчатки и средство защиты глаз (защитные очки)?

279. Что обозначает буква S в маркировке тары?

4G/Y136/S/01

280. Назовите минимальную совокупную массу заряда дополнительных огнетушителей на транспортных

единицах технически допустимой максимальной массой от 3,5 т до 7,5 т:

281. Водитель перевозит 26 баллонов с опасным грузом № ООН 1072 (КИСЛОРОД СЖАТЫЙ, класс 2) в крупном населенном пункте. Нарушит ли он правила, если перевозка осуществляется в период с 16 до 17 часов?

282. Каким веществам соответствует знак опасности:



283. Какие ограничения, связанные с перевозкой опасных грузов, распространяются на туннели категории E?

284. Какой перевозочный документ должно передать водителю лицо, ответственное за загрузку упаковок с опасными грузами в большой контейнер, если контейнер после дорожной перевозки будет перевозиться морским транспортом?

285. Запрещается ли эксплуатация транспортного средства, если нарушены требования по нанесению маркировки?

286. Какая запись должна быть сделана в транспортном документе в случае порожнего неочищенного транспортного средства, в котором перевозилась насыпью СЕРА (№ ООН 1350, знак опасности № 4.1, группа упаковки III, код ограничения проезда через тоннели (E))?

287. Если на упаковку наносятся несколько знаков опасности, могут ли они перекрывать друг друга?



288. Относится ли к термину «перевозка опасных грузов» остановки, стоянки и любое время нахождения опасных грузов в транспортных средствах, цистернах и контейнерах, требующееся в соответствии с условиями перевозки?

289. Относятся ли к опасным грузам изделия, обладающие свойствами, проявление которых при перевозке может привести к гибели, заболеванию, травмированию, отравлению или ожогам людей и (или) животных?

290. Составная тара обозначена кодом 6НА1, из какого материала изготовлена наружная тара?

291. В соответствии с ДОПОГ класс 4.1 - это:

292. Что в ДОПОГ понимается под определением «Номер ООН»?

293. Дорожные знаки и сигналы, предназначенные для запрещения движения транспортных средств, перевозящих опасные грузы, через автодорожные туннели, должны устанавливаться:

294. Транспортная единица для перевозки опасных грузов комплектуется:

295. Каким веществам соответствует знак опасности:



296. Что обозначает данный предупреждающий маркировочный знак?



297. В соответствии с ДОПОГ к классу 3 относится:

298. Где должен иметься данный предупреждающий маркировочный знак?

ОПАСНО



**ДАННАЯ ЕДИНИЦА ПОДВЕРГНУТА ФУМИГАЦИИ
С ПРИМЕНЕНИЕМ (название фумиганта)**


(дата*) (время*)

ПРОВЕТРЕНА (дата*)

НЕ ВХОДИТЬ!

299. Код ограничения проезда через туннели D /E:

300. Водитель перевозит упаковки с опасным грузом, обозначенные вышеуказанным маркировочным знаком на транспортной единице максимальной массой 24 т. Разрешается ли ему осуществить проезд через туннель категории E?



301. При каких условиях запрещена перевозка барабанов с опасным грузом?

302. Какая запись, в соответствии с ДОПОГ, должна быть сделана в транспортном документе при перевозке баллонов с КИСЛОРОДОМ СЖАТЫМ (№ ООН 1072, знаки опасности № 2.2 и № 5.1, код ограничения проезда через тоннели (E))?


303. Что в ДОПОГ понимается под аббревиатурой «КСМ»?

304. Идентификационный номер опасности состоит из двух или трех цифр. Какой вид опасности обозначает первая цифра 9?

305. В соответствии с ДОПОГ общая вместимость баков для жидкого топлива не должна превышать:

306. Распространяются ли требования Правил по обеспечению безопасности перевозки опасных грузов автомобильным транспортом на перевозки опасных грузов автомобильным транспортом по автомобильным дорогам общего пользования на территории Республики Беларусь?

307. Тара изготовлена из материала, обозначенного прописной буквой Н , этот материал:
308. Правильно ли поступил грузоотправитель, не допустивший на свою территорию под загрузку опасным грузом транспортное средство, у которого не опломбированы огнетушители?
309. В какой срок перевозчик опасных грузов обязан застраховать свою гражданскую ответственность?:
310. Перевозка опасных грузов запрещается:
311. Какая дистанция должна быть между транспортными средствами при перевозке опасных грузов колонной при видимости менее 300 м из-за тумана, дождя, снегопада, а также при наличии гололедицы?
312. Маркировка в виде стрелок должна наноситься:



313. Что из нижеперечисленного не подлежит возмещению по договору страхования гражданской ответственности перевозчика при перевозке опасных грузов?
314. Водитель осуществляет перевозку опасного груза ООН 1263 (КРАСКА, знак опасности № 3). Требуется ли в соответствии с ДОПОГ иметь на транспортном средстве защитные перчатки и средство защиты глаз (защитные очки)?
315. Водитель осуществляет перевозку ООН 2240 (КИСЛОТА ХРОМСЕРНАЯ, знак опасности № 8) в упаковках. Должна ли транспортная единица комплектоваться противопожарным полотнищем?
316. Каким веществам соответствует знак опасности:



317. Транспортные средства, перевозящие опасные грузы, должны иметь две расположенные в вертикальной плоскости прямоугольные таблички оранжевого цвета размерами:
318. Какая запись должна быть сделана в транспортном документе при перевозке порожних неочищенных барабанов из-под БЕНЗИНА МОТОРНОГО (знак опасности № 3)?
319. Какие из перечисленных элементов включает в себя Система информации об опасности (СИО)?
320. Действие Правил по обеспечению безопасности перевозки опасных грузов не распространяется, на:
321. Допускаются ли на территорию грузоотправителя транспортные средства, в случае отсутствия у водителя необходимых документов?
322. Для обозначения какого вида тары используется цифра 6?

323. Водитель осуществляет перевозку опасного груза ООН 2900 (ИНФЕКЦИОННОЕ ВЕЩЕСТВО, ОПАСНОЕ только для животных, знак опасности № 6.2). Требуется ли иметь на транспортном средстве дренажную ловушку?

324. Перевозка баллонов со сжатыми и сжиженными газами должна производиться только при наличии на баллонах четких надписей определенной окраски. Назовите окраску и текст надписи на баллоне с кислородом медицинским?

325. Разрешается ли курение в транспортном средстве во время движения?

326. В соответствии с Законом Республики Беларусь от 6 июня 2001 г. № 32-3 «О перевозке опасных грузов» опасные грузы - вещества, материалы и изделия, обладающие свойствами, проявление которых при перевозке:

- а. Может привести к гибели, заболеванию, травмированию, отравлению или ожогам людей и (или) животных
- б. Все что указано в остальных вариантах ответов
- с. Может послужить причиной взрыва и (или) пожара и вызвать повреждение транспортных средств, коммуникаций, сооружений, и технических устройств и иного имущества и (или) нанести вред окружающей среде

327. Относятся ли к опасным грузам материалы, обладающие свойствами, проявление которых при перевозке может привести к гибели, заболеванию, травмированию, отравлению или ожогам людей и (или) животных?

328. Водитель принимает к перевозке транспортный пакет, в который сформированы упаковки, маркированные знаком опасного для окружающей среды вещества. Должен ли, в соответствии с ДОПОГ, этот знак наноситься на транспортный пакет?



329. В соответствие с ДОПОГ к классу 4.1 относятся:

330. В соответствие с ДОПОГ класс 2 - это:

331. Какое из приведенных определений соответствует термину «Перевозчик» согласно Положению о страховой деятельности, утвержденному Указом Президента Республики Беларусь от 25 августа 2006 г. № 530?:

332. Запрещается ли эксплуатация транспортного средства, если имеются неисправности системы автоматике и (или) аварийной сигнализации?

333. Какие требования предъявляются к электропроводке транспортных средств, перевозящих опасные грузы?

334. Тару с нанесенной маркировкой и знаком опасности необходимо погрузить для перевозки в

транспортное средство. Нарушит ли погрузчик требования Правил, если погрузочно-разгрузочные работы производятся 01.08.2021г.?



335. В зависимости от своих опасных свойств, вещества и изделия класса 2 относятся к группам. Какие вещества и изделия относятся к группе ТО?

336. На какой срок заключается Договор страхования гражданской ответственности перевозчика при перевозке опасных грузов?

337. К какому классу опасных грузов в соответствии с ДОПОГ относятся вещества, опасные для окружающей среды и которые при перевозке не представляют дополнительной опасности?

338. Барабаны под давлением с опасным для окружающей среды веществом № ООН 1017 ХЛОР (класс 2) перевозятся в международном автомобильном сообщении. Какую запись грузоотправитель должен внести в обязательном порядке в транспортный документ?

339. Идентификационный номер опасности состоит из двух или трех цифр. Какой вид опасности обозначает первая цифра 7?

340. Какие транспортные средства должны быть оборудованы антиблокировочной тормозной системой (АБС)?

341. Какие из перечисленных транспортных средств должны быть оборудованы антиблокировочной тормозной системой (АБС)?

342. Если в качестве наружной тары для опасных грузов, упакованных в ограниченных количествах, используются поддоны, обернутые в термоусадочный материал или растягивающуюся пленку, то:

343. Тара изготовлена из материала, обозначенного прописной буквой М, этот материал:


344. В соответствии с Законом Республики Беларусь от 6 июня 2001 г. № 32-З «О перевозке опасных грузов» перевозка опасных грузов - это:

а. Совокупность организационных и технологических операций по перемещению опасных грузов с использованием транспортных средств от места их отправления до места назначения, выполняемых на договорной основе или других законных основаниях

б. Все что указано в остальных вариантах ответов

с. Погрузка (налив), выгрузка (слив), остановки, стоянки и любое время нахождения опасных грузов в транспортных средствах, цистернах и контейнерах, требующееся в соответствии с условиями перевозки, а также промежуточное временное складирование опасных грузов в целях смены вида транспорта либо транспортного средства (перегрузка, перевалка)

345. Маркировочный знак, изображенный на рисунке, наносится:



346. Перевозка баллонов со сжатыми и сжиженными газами должна производиться только при наличии на баллонах четких надписей определенной окраски. Назовите окраску и текст надписи на баллоне с ацетиленом?

347 Тара изготовлена из материала, обозначенного прописной буквой F, этот материал:

348. Какой риск для членов экипажа может представлять опасный груз, на упаковке которого нанесен этот знак опасности?



349. Допускается ли транспортное средство, зарегистрированное в Республике Беларусь, к перевозке опасных грузов по территории Республики Беларусь при отсутствии регистрационной карточки?

350. Когда водитель транспортного средства, перевозящего опасный груз, должен ознакомиться с содержанием письменных инструкций?

351. Что в Правилах по обеспечению безопасности перевозки опасных грузов автомобильным транспортом понимается под определением «Крупный населенный пункт»?

352. Код ограничения проезда через туннели В/Е:

353. Какой риск для членов экипажа может представлять опасный груз, на упаковке которого нанесен этот знак опасности?



354. Водители осуществляют перевозку опасного груза ООН 1062 (МЕТИЛ БРОМИД, знак опасности № 2.3). Требуется ли в соответствии с ДОПОГ иметь на транспортном средстве маску для аварийного покидания транспортного средства ?

355. Большие знаки опасности размещаются:

356. Тара изготовлена из материала, обозначенного прописной буквой В, этот материал:

357. Каким веществам соответствует знак опасности:



358. Тара изготовлена из материала, обозначенного прописной буквой Р, этот материал:

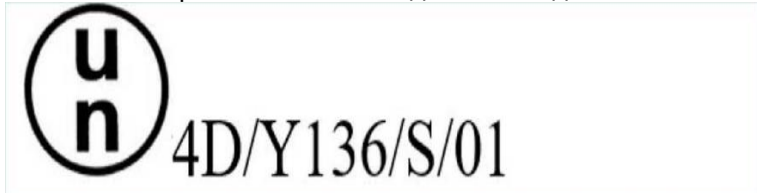
359. К какому классу опасных грузов в соответствии с ДОПОГ относятся токсичные вещества, не представляющие при перевозке дополнительной опасности (например, триоксид мышьяка)?

360. Разрешается ли перевозка опасных грузов автомобилями, прицепами и полуприцепами с опрокидывающимся кузовом?

361. Какой риск для членов экипажа может представлять опасный груз, на упаковке которого нанесен этот знак опасности?



362. Какая тара обозначена в данном коде?



363. Код ограничения проезда через туннели V/D:

364. В соответствии с ДОПОГ к классу 5.2 относятся:

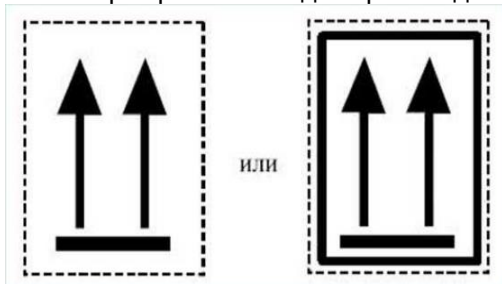
365. Правильно ли поступил грузоотправитель, не допустивший на свою территорию под загрузку опасным грузом транспортное средство, у которого отсутствуют два знака «Опасность» с собственной опорой?

366. Идентификационный номер опасности состоит из двух или трех цифр. Какой вид опасности обозначает первая цифра 6?

367. Что в ДОПОГ понимается под определением «Малый контейнер»?

368. Для обозначения какого вида тары используется цифра 3?

369. Маркировка в виде стрелок должна наноситься:



370. Какой риск для членов экипажа может представлять опасный груз, на упаковке которого нанесен этот знак опасности?



371. Правильно ли поступил грузоотправитель, не допустивший на свою территорию под загрузку опасным грузом транспортное средство, максимальная масса которого более 7,5 т из-за отсутствия среди дополнительных огнетушителей огнетушителя с минимальной массой заряда 6 кг?

372. Распространяется ли действие Правил, на перевозку газов, содержащихся в топливных баках или баллонах транспортного средства, осуществляющего транспортную операцию, и предназначенных для обеспечения тяги транспортного средства?

373. Каким веществам соответствует знак опасности:



374. Какая запись должна быть сделана в транспортном документе при перевозке порожних баллонов из-под ХЛОРА (№ ООН 1017, класс 2, знаки опасности № 2.3, № 5.1 и № 8, опасное для окружающей среды вещество) вместимостью 50 литров?

375. Каким веществам соответствует знак опасности:



376. В соответствии с ДОПОГ к классу 5.1 относятся:

377. В случае причинения вреда жизни и (или) здоровью потерпевшего в результате аварии, произошедшей при осуществлении страхователем перевозки опасных грузов, страховое возмещение определяется в размере:

378. Если перед идентификационным номером опасности стоит буква X, то это означает, что:

X423

2257

379. Какой документ, наряду с другими, должен быть у водителя транспортного средства зарегистрированного в Республике Беларусь, перевозящего опасные грузы по территории Республики Беларусь?

380. Каким опасным грузам назначается группа упаковки?

381. Разрешается ли курение во время обработки грузов?

- Все, что указано в остальных вариантах ответов
- Запрещается курение электронных сигарет и аналогичных устройств внутри или вблизи транспортных средств или контейнеров
- Запрещается курение внутри и вблизи транспортных средств или контейнеров

382. В зависимости от своих опасных свойств, вещества и изделия класса 2 относятся к группам. Какие вещества и изделия относятся к группе А?

383. Транспортная единица для перевозки опасных грузов комплектуется:

384. Какая дистанция должна быть между транспортными средствами при перевозке опасных грузов колонной по ровной дороге?

385. Нарушает ли грузоотправитель требования ДОПОГ, передавая к перевозке крупногабаритную тару с легковоспламеняющимися аэрозолями (№ ООН 1950), если знак опасности приклеен только к одной боковой стороне крупногабаритной тары?